




Öğrenci Adı Soyadı :	Aldığı Not :		
Sınıfı -No :			
SINAVIN TANIMI			
SINIF	SINAV DÖNEMİ	DERS ADI	SINAV TARİHİ
10	2.DÖNEM 1. YAZILI	COĞRAFYA	25.03.2024

10.1.17. Türkiye'nin bitki örtüsü dağılımını analiz eder

1. Aşağıdaki profilde yurdumuzda bulunan iki dağ arasından bitki değişimi profili gösterilmiştir



a- Verilen bitki örtülerinden hangileri ot formasyonuna aittir? (6 P)

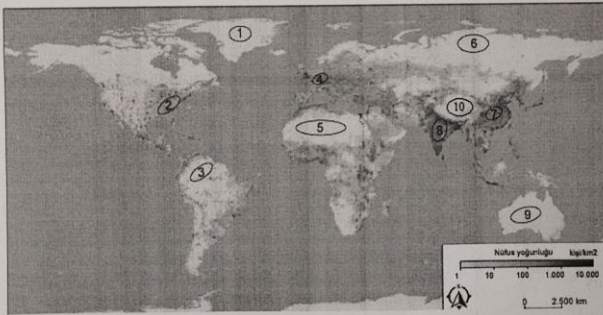
Çayır ve Bozkır.  
(2) (2)

b- Yurdumuzda bitki örtüsü çeşidinin fazla olması nasıl açıklanabilir? (4 P)

İklim geçişinin fazla olmasıyla açıklanır. (6)

10.2.3. Dünya'da nüfus dağılımını etkileyen faktörleri analiz eder

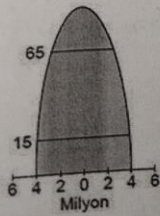
2. Haritada işaretli olan yerlerde nüfusun az ya da çok olma nedenini yazın (10 P)



- 1- Az nüfuslu - Soğuk iklim (1)
- 2- Gök nüfuslu - Sanayi - Bankacılık (1)
- 3- Az nüfuslu - Yağmur ormanı (1)
- 4- Gök nüfuslu - Sanayi - Ticaret (1)
- 5- Az nüfuslu - Göl (1)
- 6- Az nüfuslu - Soğuk iklim (1)
- 7- Gök nüfuslu - Sanayi - Ticaret (1)
- 8- Gök nüfuslu - Tarım (1)
- 9- Az nüfuslu - Göl (1)
- 10- Az nüfuslu - Yüksek dağlar (1)

10.2.4. Nüfus piramitlerinden hareket ederek çıkarımlarda bulunur

3. Verilen nüfus piramidine sahip olan bir ülkenin nüfusu ile ilgili yaşadığı en önemli sorun nedir? (10 P)



Doğumların az olması sebebiyle işgücü ihtiyacının karşılanamamasıdır.  
(10)

10.2.1. İstatistikî verilerden yararlanarak nüfus özellikleri ve önemi hakkında çıkarımlarda bulunur

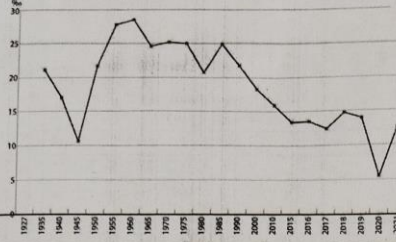
4. Nüfus sayımları sonucunda nüfusun yapısal özellikleri tespit edilir. Aşağıda verilen yapısal özelliklerden yola çıkarak ülkelerin gelişme düzeyleri hakkında yorum yapın. (10 P)

NÜFUS ÖZELLİĞİ	GELİŞME DÜZEYİ
Doğum oranı fazla	Geri kalmış ülke
Tarım sektöründe çalışanların oranı fazla	Geri kalmış (2)
Ortanca yaş yüksek	Gelişmiş (2)
Nüfus miktarı az	Bilinemez (1)
Yaşlı nüfus az	Geri Kalmış (2)
Yaşam süresi uzun	Gelişmiş (2)

10.2.5. Türkiye'de nüfusun tarihsel seyrini sosyal ve ekonomik açıdan değerlendirir

5. Aşağıda yurdumuzun nüfus artış hızı grafiği verilmiştir.

a- Nüfus artış hızının en az olduğu iki dönem hakkında bilgi verin (5 P)



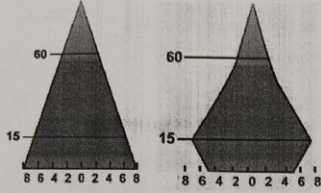
1945 yılında 2. dünya savaşı (3)  
2020 yılında Covid 19 sebebiyle (2)  
nüfus artış hızı azalmıştır.

b- Yurdumuzda nüfus sürekli olarak artmış mıdır? (5 P)

Artmıştır. (5)

10.2.4. Nüfus piramitlerinden hareket ederek çıkarımlarda bulunur

6. Nüfus piramidi ilk şekilden ikinci şekle dönen bir ülkenin nüfusunda meydana gelen en önemli değişim nedir? (10 P)



Doğumlar azalmıştır. (10)

10.2.1. İstatistikî verilerden yararlanarak nüfus özellikleri ve önemi hakkında çıkarımlarda bulunur

7. Aşağıda üç ülkede nüfusun yaş gruplarına göre dağılımı gösterilmiştir.

Ülkeler	0 - 14 Yaş %	15 - 64 Yaş %	65 + Yaş %
Senegal	45	52	3
Çin	17	70	13
Almanya	11	67	22

Hangi ülkede nüfus artışı en fazladır? (5 P)

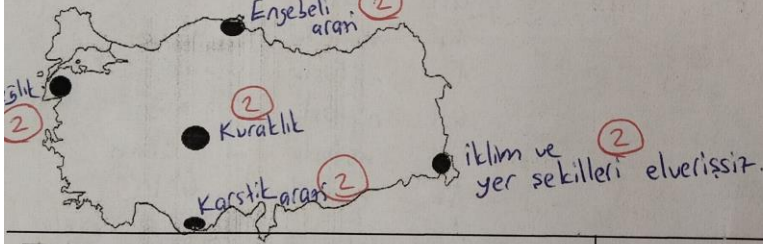
Senegal (5)

Bu ülke nüfusunun hızla artması sebebiyle yaşayabileceği sorunlardan bir tanesini yazın. (5 P)

Eğitim ve sağlık hizmetlerinde aksamlar yaşanabilir. (5)

10.2.6. Türkiye'de nüfusun dağılımını nüfus dağılımında etkili olan faktörler açısından değerlendirir

8. Aşağıda yurdumuzun az nüfuslanmış yerleri gösterilmiştir. Bu sahalarda nüfusun az olmasının sebebini yanlarına yazın. (10 P)



10.2.2. Dünya nüfusunun tarihsel süreçteki değişimi hakkında çıkarımlarda bulunur.

9. Dünya nüfusunda, nüfus sıçraması diye tabir edilen belirgin artışların olduğu dönemler yaşanmıştır.

Birinci sıçrama, insanların alet yapmayı keşfetmesiyle gerçekleşmiştir. İnsanların yaptıkları aletlerle yabani hayvanlara karşı mücadele etmeye, onları avlama olanaklarını artırarak daha iyi beslenmeye başlamaları nüfusu artırmıştır.

İkinci sıçrama, tarıma ve yerleşik hayata geçilmesiyle gerçekleşmiştir. İnsanların yerleşik hayata geçerek hayvanları evcilleştirmesi ve tarımsal üretime beslenme imkânlarının artması, nüfusun artmasını sağlamıştır.


Üçüncü sıçrama, Sanayi Devrimi sonrasında gerçekleşmiştir. Bu dönemde başlayan sanayileşme süreci beslenme ve barınma imkânlarını artırmıştır. Gelişen teknoloji ve bilim sayesinde hastalıklarla daha iyi mücadele edilmeye başlanması, ölümleri azaltıp ortalama yaşam süresini yükseltmiştir. Bu durum, devam eden doğum oranlarıyla birlikte dünya nüfusunun artmasına neden olmuştur.

Parçada bahsedilen sıçrama dönemlerinin üçünde de nüfus artışı sağlayan ortak özellik nedir?

Beslenme koşullarının düzelmesidir. (10)

10.2.7. Güncel verilerden yararlanarak Türkiye nüfusunun yapısal özelliklerini analiz eder

10. Aşağıda Türkiye'ye ait çalışan nüfusun iş kollarına (sektör) göre dağılımını gösteren bir grafik verilmiştir. İş kollarını verilen boşluklara yazın. (10 P)



Kocaeli ODM merkezi tarafından yayınlanan 4. Senaryodaki soru dağılımı dikkate alınmıştır.

Ayşen ŞİMŞEK  
Coğrafya Öğrt.

Hüseyin GÜRLAĞAR  
Okul Müdürü