



Öğrenci Adı Soyadı :		Aldığı Not :	
Sınıfı -No :			
SINAVIN TANIMI			
SINIF	SINAV DÖNEMİ	DERS ADI	SINAV TARİHİ
9	1.DÖNEM 2. YAZILI	COĞRAFYA	26.12.2023

9.1.1. Doğa insan etkileşimini örneklerle açıkla

1. Doğa ile savaş halindeyiz. Bu savaşı kazanırsak, kaybedeceğiz.

Yukarıdaki cümlelerin sizde oluşturduğu düşünceleri yazın. (10 PUAN)

İnsanlar yaptıkları faaliyetlerle doğaya zarar vermektedir. Doğa ile dost bir yaşam sürmememiz halinde doğal sistemlerde meydana gelecek değişimlerden en çok zararı yine insanlar görecektir.

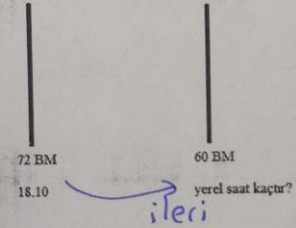
9.1.4. Dünyanın şekli ve hareketlerinin etkilerini değerlendirir

2. Aşağıda durumların hangi tarihte gerçekleştiğini karşısına yazın. (15 PUAN)

	Gerçekleştiği tarih
Yurdumuzda en uzun gece yaşanır	21 Aralık (3)
Türkiye'de yaz mevsimi başlar	21 Haziran (3)
Gece gündüz süreleri her yerde birbirine eşittir	21 Mart - 23 Eylül (3)
Bu tarihte ülkemizde kış başlar	21 Aralık (3)
Güneş ışınları öğlak dönencesine dik açı ile gelir	21 Aralık (3)

9.1.5. Koordinat sistemini kullanarak yere ve zamana ait çıkarımlarda bulunur.

$$\begin{aligned} 72 - 60 &= 12 \quad (4) \\ 12 \times 4 &= 48 \text{ dk} \quad (4) \\ 18.10 \\ + 48 \\ \hline 18.58 \quad (4) \end{aligned}$$



3. Aşağıda verilen saat hesaplama sorusunu işlem basamaklarını göstererek çözün. (12 PUAN)

9.1.5. Koordinat sistemini kullanarak yere ve zamana ait çıkarımlarda bulunur.

4. Koordinat sistemi paralel ve meridyenlerden oluşur. Bu sistem ile ilgili bilgiler veren öğrenciler şu cümleleri kurmuştur.

Efe: Koordinat sistemini kullanarak paralel ve meridyen dereceleri verilen bir yeri kolayca Dünya üzerinde gösterebiliriz. +

Ali: Meridyenlerin sayısı paralellerden azdır. -

Meriç: Paraleller Dünya'nın çevresinde tam tur atarlar +


Deniz: Meridyenlerin boyları birbirine eşittir. +

İsmet: Meridyenler arasında 111 km mesafe vardır. -

Yanlış bilgi veren 2 öğrencinin adını yazın. (12 PUAN)

(6) Ali ve (6) İsmet yanlış bilgi vermiştir.

9.1.6. Haritayı oluşturan unsurlardan yararlanarak haritaları kullanır



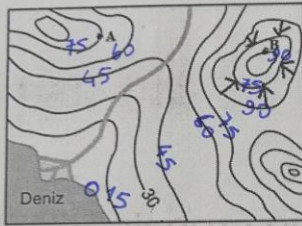
5. Yukarıda eşit büyüklükteki kağıtlara çizilmiş iki harita gösterilmiştir. Bu haritaların ölçekleri ile ilgili nasıl bir yorum yapılabilir? Açıklayınız. (12 PUAN)

Dünya haritası küçük ölçekli, Türkiye haritası büyük ölçeklidir.

(12)

9.1.7. Bilgileri haritaya aktarmada kullanılan yöntem ve teknikleri açıkla

6. Aşağıdaki harita üzerinde işaretli olan A ve B noktalarının yükseltileri kaç metredir? (12 PUAN)

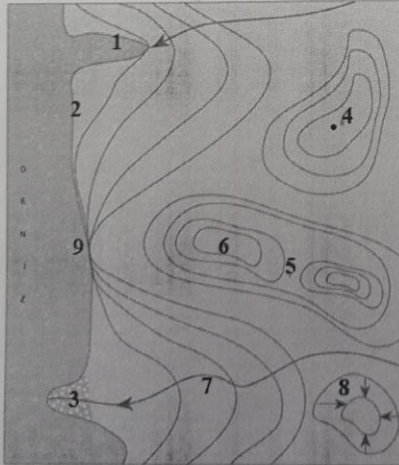


A = 75m (6)

B = 90m (6)

9.1.8. Haritalarda yer şekillerinin gösteriminde kullanılan yöntem ve teknikleri açıkla

7. Haritada numaralarla gösterilen yer şekillerinin adlarını yazın. (27 PUAN)



1. Haliç (3)
2. Kıyı Çizgisi (3)
3. Delta (3)
4. Zirve (Doruk) (3)
5. Boyun (3)
6. Tepe (3)
7. Sürekli akarsu (Vadi) (3)
8. Gökür (3)
9. Falez (3)

Ayşen ŞİMŞEK
Coğrafya Öğretmeni

Hüseyin GÜRLAGAP
Okul Müdürü